


## Карточка по математике для детей 4-5 лет.

Рассоха Ирина Владимировна – воспитатель 1 категории,  
« Педагог – эксперт» высшего образования, irina\_rassokha@mail.ru  
КГКП « Ясли-сада « Балдаурен»отдела образования Щербактинского района,  
управления образования Павлодарской области »

1. Обведи в кружок, изображение по порядку:  
( дети должны назвать порядковое числительное)

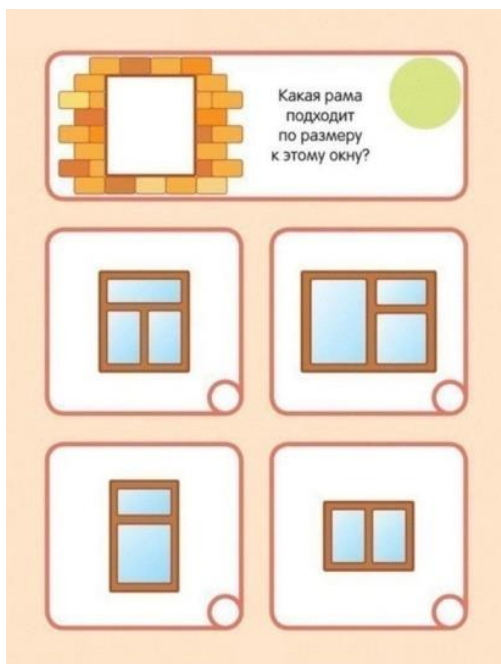


изображение по порядку: 1,3,5

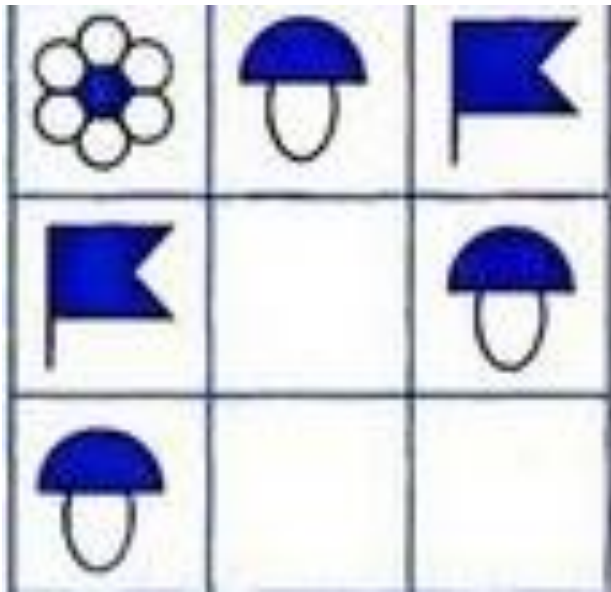


изображение по порядку: 2,4

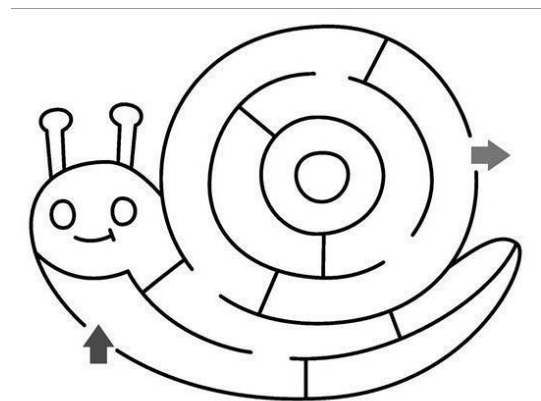

2. Найди правильный силуэт  
( Дети должны выбрать один из  
четырёх предложенных вариантов).



3. Дорисуй недостающие фигуры в каждом ряду.



4. Путешествие по лабиринту.



5. Занимательные задачки.

У девочки Аленки были игрушки: корабик, мячик, медвежонок. Алена решила подарить медвежонка своей подруге Дарье, сколько игрушек подарила Аленка? Сколько игрушек осталось у Аленки? Сколько игрушек стало у Дарьи?



У девочки Аленки много разных игрушек: мягкое солнышко, резиновый мячик и яблоко. В магазине ей купили кораблик и медвежонка.

Сколько игрушек стало у Аленки?

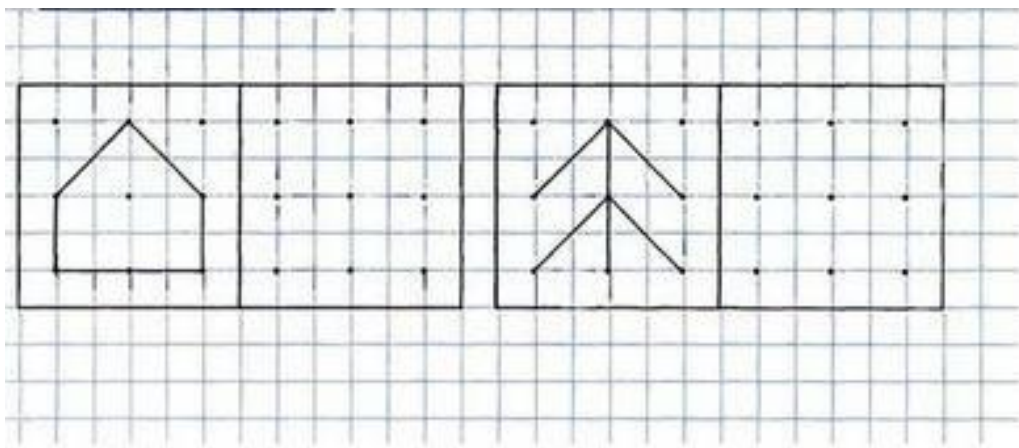
Сколько игрушек было у Аленки?

Сколько игрушек купили Аленке?



б.Графика.

( Ребенок должен правильно соединить точки прямыми линиями).



Карточка составлена для индивидуальной работы детей на занятиях по математике для детей 4-5 лет.

Карточку составила воспитатель: Рассоха Ирина Владимировна.